

PREFEITURA MUNICIPAL DE PORTO NACIONAL-TO

QUADRO DE SERVIDORES DO PODER EXECUTIVO 2019

CONCURSO PÚBLICO



NÍVEL: Fundamental

CARGO: Motorista

Língua Portuguesa	01 a 10
Noções de Informática	11 a 15
Conhecimentos Regionais	16 a 20
Legislação Pertinente ao Município de Porto Nacional/TO	21 a 30
Conhecimentos Específicos	31 a 40

APLICAÇÃO: MANHÃ



ATENÇÃO: transcreva no espaço apropriado da **FOLHA DE RESPOSTAS (GABARITO)**, com sua caligrafia usual, considerando as letras maiúsculas e minúsculas, a seguinte frase:

Não desista, coisas boas levam tempo.

LEIA ATENTAMENTE AS SEGUINTE INSTRUÇÕES:

1. Verifique se este CADERNO DE PROVAS contém um total de 40 questões, dispostas conforme o quadro acima.
2. Caso haja algum problema de impressão ou divergência quanto ao cargo, solicite ao aplicador a substituição deste caderno, impreterivelmente, até 15 minutos após o início da prova.
3. Use somente caneta azul ou preta e aplique traços firmes dentro da área reservada à letra correspondente a cada resposta, conforme modelo:

Marque assim:

00	A	B	<input checked="" type="radio"/>	D
----	---	---	----------------------------------	---

Não marque assim:

00	X	<input type="radio"/>	<input checked="" type="checkbox"/>	<input type="checkbox"/>
----	---	-----------------------	-------------------------------------	--------------------------

OBS: Sua resposta NÃO será computada se houver marcação de mais de uma alternativa.

4. Ao terminar a prova, acene para chamar o aplicador para que sejam recolhidos este Caderno de Provas e sua Folha de Respostas (Gabarito).
5. Após a prova você poderá levar consigo somente o Gabarito Rascunho.
6. Recolha seus objetos, deixe a sala, e em seguida o prédio. A partir do momento em que você sair da sala e até sair do prédio, continuam válidas as proibições sobre o uso de aparelhos eletrônicos e celulares bem como não lhe é mais permitido o uso dos sanitários.
7. De acordo com o item 10.18 do edital terá suas provas anuladas e será automaticamente eliminado do processo seletivo, o candidato que durante a sua realização for surpreendido portando (mesmo que desligado) quaisquer aparelhos eletrônicos, tais como bip, smartphone, telefone celular, relógio de qualquer espécie, walkman, agenda eletrônica, notebook, palmtop, ipod, ipad, tablet, pen drive, receptor, gravador, máquina de calcular, máquina fotográfica, fones de ouvido, chaves integradas com dispositivos eletrônicos, controle de alarme de carro e moto, controle de portão eletrônico etc., bem como quaisquer acessórios de chapelaria, tais como chapéu, boné, gorro etc., e ainda lápis, lapiseira/grafite, borracha, caneta em material não-transparente, óculos de sol (exceto com comprovação de prescrição médica), qualquer tipo de carteira ou bolsa e armas.

Nome: _____
RG: _____

ATENÇÃO:

O tempo disponível para a realização desta prova, incluindo o preenchimento da Folha de Respostas (Gabarito) é de 3 horas.

PROVA DE LÍNGUA PORTUGUESA

Leia o texto a seguir e responda as **QUESTÕES** de **01** a **08**.

A lenda do Pirarucu

Pirarucu era um índio que pertencia à tribo dos Uaiás que habitava as planícies de Lábrea, no Sudoeste da Amazônia. Ele era um bravo guerreiro, mas tinha um coração perverso, mesmo sendo filho de Pindarô, um homem de bom coração e chefe da tribo.

Pirarucu era cheio de vaidades, egoísmo e excessivamente orgulhoso de seu poder. Um dia, enquanto seu pai fazia uma visita amigável a tribos vizinhas, Pirarucu se aproveitou da ocasião para tomar como refém índios da aldeia e executá-los sem nenhum motivo. Pirarucu também adorava criticar os deuses.

Tupã, o deus dos deuses, observou Pirarucu por um longo tempo, até que cansado daquele comportamento decidiu punir Pirarucu. Tupã chamou Polo e ordenou que ele espalhasse seu mais poderoso relâmpago na área inteira. Ele também chamou lururuaçu, a deusa das torrentes, e ordenou que ela provocasse as mais fortes torrentes de chuva sobre Pirarucu, que estava pescando com outros índios às margens do rio Tocantins, não muito longe da aldeia.

O fogo de Tupã foi visto por toda a floresta. Quando Pirarucu percebeu as ondas furiosas do rio e ouviu a voz enraivecida de Tupã, ele somente as ignorou com uma risada e palavras de desprezo. Então Tupã enviou Xandoré, o demônio que odeia os homens, para atirar relâmpagos e trovões sobre Pirarucu, enchendo o ar de luz. Pirarucu tentou escapar, mas enquanto ele corria por entre os galhos das árvores, um relâmpago fulminante, enviado por Xandoré, acertou o coração do guerreiro que mesmo assim, ainda se recusou a pedir perdão.

Todos aqueles que se encontravam com Pirarucu correram para a selva terrivelmente assustados, enquanto o corpo de Pirarucu, ainda vivo, foi levado para as profundezas do rio Tocantins e transformado em um gigante e escuro peixe. Pirarucu desapareceu nas águas e nunca mais retornou, mas por um longo tempo, foi o terror da região.

Fonte: Disponível em: <<http://www.sumauma.net/amazonian/lendas/lendas-pirarucu.html>>. Acesso em 01 maio 2019. (adaptado).

QUESTÃO 01

Assinale a alternativa **CORRETA**. Podemos afirmar que o texto narra

- (A) a guerra entre os deuses Tupã e Xandoré.
- (B) os perigos da pesca do pirarucu nos rios da Amazônia.
- (C) a história do índio Pirarucu, que foi transformado em peixe.
- (D) as aventuras do índio Pirarucu, que foi morto por tribos inimigas.

QUESTÃO 02

Assinale a alternativa **CORRETA**. No texto, o índio Pirarucu é apresentado como um guerreiro

- (A) alegre, amigo e confiável.
- (B) vaidoso, orgulhoso e egoísta.
- (C) obediente, amoroso e piedoso.
- (D) religioso, medroso e respeitador.

QUESTÃO 03

Assinale a alternativa **CORRETA**. Tupã castigou Pirarucu porque

- (A) sentia inveja da sua valentia.
- (B) pensava que Pirarucu era um demônio.
- (C) queria punir Pirarucu por seu mau comportamento.
- (D) desejava criar um peixe grande para alimentar os índios.

QUESTÃO 04

Assinale a alternativa **CORRETA**. Em: “**Pirarucu** era um índio que pertencia à **tribo** dos Uaiás”, os termos em destaque, classificam-se, respectivamente, como

- (A) substantivo próprio e substantivo comum.
- (B) substantivo simples e substantivo próprio.
- (C) substantivo composto e adjetivo.
- (D) adjetivo e adjetivo.

QUESTÃO 05

Assinale a alternativa **CORRETA**. Em: “**Pirarucu** desapareceu nas águas e nunca mais retornou [...]”, o termo em destaque classifica-se como:

- (A) complemento nominal.
- (B) predicativo do sujeito.
- (C) objeto direto.
- (D) sujeito.

QUESTÃO 06

Assinale a alternativa em que a vírgula foi usada **CORRETAMENTE**.

- (A) Pirarucu, é um peixe grande do rio Tocantins.
- (B) A lenda do Pirarucu, conta a história do peixe do rio Tocantins.
- (C) Tupã o deus dos deuses observou, Pirarucu por um longo tempo até que cansado, daquele comportamento decidiu, punir Pirarucu.
- (D) Xandoré, o demônio que odeia os homens, atira relâmpagos e trovões.

QUESTÃO 07

Em: “Pirarucu tentou escapar, mas enquanto ele corria por entre os galhos das árvores, um relâmpago **fulminante**, enviado por Xandoré, acertou o coração do guerreiro.”, assinale a alternativa **CORRETA** em que o termo em destaque pode ser substituído, sem prejuízo de sentido, por

- (A) mortal.
- (B) brando.
- (C) iluminado.
- (D) silencioso.

QUESTÃO 08

Assinale a alternativa em que a concordância verbal foi usada **CORRETAMENTE**.

- (A) O peixe Pirarucu vivem no rio Tocantins.
- (B) lururuaçu é uma divindade indígena.
- (C) Tupã e Xandoré pertence às crenças indígenas.
- (D) Tupã, Polo, Xandoré e lururuaçu é os deuses dos índios.

QUESTÃO 09

Assinale a alternativa **CORRETA** em que a oração se encontra em sentido conotativo/figurado.

- (A) A música espalhava-se como líquido quente.
- (B) A gasolina é um líquido altamente inflamável.
- (C) A água é nosso líquido mais precioso.
- (D) O líquido dessa garrafa é álcool?





QUESTÃO 10

Assinale a alternativa em que todas as palavras estão grafadas **CORRETAMENTE**.

- (A) Silvanópolis, Cristalândia, Jalapão.
- (B) Tocantinopoles, Babassulândia, Gurupi.
- (C) Porto Nacional, Araguaína, Araguassema.
- (D) Assailândia, Achichá do Tocantins, Guaraí.

PROVA DE NOÇÕES DE INFORMÁTICA**QUESTÃO 11**

Assinale a alternativa que apresenta o ícone de um editor de texto do ambiente Microsoft Office.

- (A) 
- (B) 
- (C) 
- (D) 

QUESTÃO 12

Sobre o uso de senhas no Sistema Operacional Windows 10 assinale a alternativa **CORRETA**.

- (A) O Windows não permite que o usuário recupere ou altere sua senha.
- (B) Para o cadastro de uma senha de acesso é necessário, obrigatoriamente, uma sequência com números, letras e caracteres.
- (C) Senhas diferenciam letras maiúsculas de minúsculas. Assim, a mesma palavra escrita com letras maiúsculas ou com letras minúsculas são consideradas duas senhas diferentes.
- (D) O Windows permite que o usuário digite sua senha exata também como dica e a exibe sempre que solicitado.

QUESTÃO 13

Assinale a alternativa **CORRETA**.

- (A) Os vírus são propagados apenas em mensagens de e-mail.
- (B) Para diminuir o risco de infecção com vírus é recomendado que o usuário abra apenas anexos conhecidos e evite clicar em links recebidos por e-mail.
- (C) Pen drives não possuem capacidade de armazenamento de vírus, portanto, são unidades totalmente seguras.
- (D) A Sistema Operacional Windows só aceita a instalação do antivírus Windows Defender.

QUESTÃO 14

Qual das opções **NÃO** é um navegador de internet:

- (A) Internet Explorer
- (B) Firefox
- (C) Google Chrome
- (D) Adobe Reader

QUESTÃO 15

Assinale a alternativa **CORRETA** quanto ao Microsoft Excel 2016.

- (A) É uma planilha eletrônica, ou seja, um programa de computador que consiste na apresentação de textos, datas, números e fórmulas dispostos em uma grade e voltados para a realização de cálculos.
- (B) Um editor de textos voltado para apresentações e palestras.
- (C) Um editor de imagem para desenvolvimento de propagandas.
- (D) Um compactador de arquivos e pastas.

PROVA DE CONHECIMENTOS REGIONAIS**QUESTÃO 16**

É **CORRETO** afirmar que um dos principais marcos da cidade de Porto Nacional é a Catedral

- (A) Senhor do Bonfim.
- (B) Bom Jesus da Lapa.
- (C) Nossa Senhora das Mercês.
- (D) Nossa Senhora de Monte do Carmo.

QUESTÃO 17

Considerando que é a principal ligação do Meio-Norte do Brasil, não apenas para o estado do Tocantins, mas também para o Maranhão, Pará e Amapá, com a Região geoeconômica Centro-Sul do país, devido a esse fato e somado ao grande fluxo de veículos, é **CORRETO** afirmar que é considerada atualmente como uma das principais rodovias de integração nacional do Brasil.

- (A) BR-153.
- (B) BR-262.
- (C) BR-341.
- (D) BR-423.

QUESTÃO 18

É **CORRETO** afirmar que o segundo município mais populoso do estado, atrás apenas da capital Palmas, localizado na região norte do estado do Tocantins é

- (A) Gurupi.
- (B) Araguaína.
- (C) Natividade.
- (D) Araguaçu.

QUESTÃO 19

Assinale a alternativa que corresponde ao estado que **NÃO** pertence à Região Norte do Brasil.

- (A) Amazônia.
- (B) Tocantins.
- (C) Acre.
- (D) Piauí.

QUESTÃO 20

É **CORRETO** afirmar que na esfera municipal os poderes executivo e legislativo têm como representantes:

- (A) Prefeito e juiz.
- (B) Prefeito e vereadores.
- (C) Prefeito e Governador.
- (D) Presidente e deputados.

PROVA DE LEGISLAÇÃO PERTINENTE AO MUNICÍPIO DE PORTO NACIONAL**QUESTÃO 21**

Assinale a alternativa **INCORRETA**. De acordo com a Lei Orgânica do Município, em especial quanto ao processo legislativo, considera-se como lei complementar:

- (A) Código Penal do Município.
- (B) Código Tributário do Município.
- (C) Código de Obras.
- (D) Código de Posturas Municipais.

QUESTÃO 22

São símbolos do Município, **EXCETO**:

- (A) Bandeira.
- (B) Brasão.
- (C) Hino.
- (D) Lei Orgânica.

QUESTÃO 23

Assinale a alternativa **CORRETA**. De acordo com a Lei Orgânica do Município, o Governo municipal é exercido:

- (A) pela Câmara de Vereadores e pelo Prefeito.
- (B) pelo Presidente da Câmara de Vereadores.
- (C) pelo Diretor do Fórum e pelo Prefeito.
- (D) pelo Presidente da Câmara de Vereadores e pelo povo.

QUESTÃO 24

Assinale a alternativa **INCORRETA**. A Lei Orgânica do Município poderá ser emendada mediante proposta:

- (A) de um terço, no mínimo, dos membros da Câmara Municipal.
- (B) do Prefeito.
- (C) de iniciativa popular, subscrito o projeto por cidadãos que representem, no mínimo, 5% (cinco) por cento dentre os eleitores do Município.
- (D) do Governador do Estado.

QUESTÃO 25

Considerando a Lei Orgânica do Município, em especial quanto ao Poder Executivo, compete privativamente ao Prefeito:

- I. Representar a Câmara em juízo ou fora dele.
- II. Representar o Município em suas relações jurídicas, políticas e administrativas.
- III. Sancionar, promulgar e fazer publicar as leis, bem como expedir decretos e regulamentos para sua fiel execução.
- IV. Vetar projetos de lei, total ou parcialmente.

Assinale a alternativa **CORRETA**.

- (A) Apenas as afirmativas II, III e IV estão corretas.
- (B) Apenas as afirmativas I, III e IV estão corretas.
- (C) Apenas as afirmativas I, II e IV estão corretas.
- (D) Todas as afirmativas estão corretas.

QUESTÃO 26

Nos termos da Lei nº 1.435/1994 (Regime Jurídico Único dos Servidores do Município de Porto Nacional), os cargos públicos serão providos, **EXCETO**, por:

- (A) nomeação.
- (B) aproveitamento.
- (C) reintegração.
- (D) indicação.

QUESTÃO 27

Nos termos da Lei nº 1.435/1994 (Regime Jurídico Único dos Servidores do Município de Porto Nacional), assinale a alternativa **CORRETA**. O candidato, aprovado em concurso, para tomar posse em cargo público no Município, além de atender outros requisitos, deverá:

- (A) ter, no mínimo, 16 (dezesesseis) anos completos e, no máximo, 45 (quarenta e cinco) anos completos.
- (B) ter, no mínimo, 18 (dezoito) anos completos.
- (C) ter, no mínimo, 21 (vinte e um) anos completos.
- (D) ter, no mínimo, 25 (vinte e cinco) anos completos.

QUESTÃO 28

Nos termos da Lei nº 1.435/1994 (Regime Jurídico Único dos Servidores do Município de Porto Nacional), assinale a alternativa **INCORRETA**. Entre outros casos legais, a vacância do cargo decorrerá de:

- (A) progressão.
- (B) demissão.
- (C) aposentadoria.
- (D) falecimento.

QUESTÃO 29

Assinale a alternativa **INCORRETA**. Nos termos da Lei nº 1.435/1994 (Regime Jurídico Único dos Servidores do Município de Porto Nacional), são penalidades disciplinares, dentre outras, aplicáveis ao servidor:

- (A) a multa.
- (B) a demissão.
- (C) a cassação da aposentadoria.
- (D) a prisão administrativa.

QUESTÃO 30

Assinale a alternativa **CORRETA**. Nos termos da Lei nº 1.435/1994 (Regime Jurídico Único dos Servidores do Município de Porto Nacional), além dos vencimentos, o servidor que preencher os requisitos e as condições necessárias terá direito à percepção da seguinte vantagem:

- (A) ajuda de custo.
- (B) auxílio moradia.
- (C) auxílio paletó.
- (D) adicional de qualificação.

PROVA DE CONHECIMENTOS ESPECÍFICOS

QUESTÃO 31

Assinale a alternativa que **NÃO** trata dos objetivos básicos do Sistema Nacional de Trânsito:

- (A) estabelecer a sistemática de fluxos permanentes de informações entre os seus diversos órgãos e entidades, a fim de facilitar o processo decisório e a integração do Sistema.
- (B) estabelecer diretrizes da Política Nacional de Trânsito, com vistas apenas à segurança, à fluidez, e à educação para o trânsito, não sendo necessário fiscalizar seu cumprimento.
- (C) fixar, mediante normas e procedimentos, a padronização de critérios técnicos, financeiros e administrativos para a execução das atividades de trânsito.
- (D) estabelecer diretrizes da Política Nacional de Trânsito, com vistas à segurança, à fluidez, ao conforto, à defesa ambiental e à educação para o trânsito, e fiscalizar seu cumprimento.

QUESTÃO 32

De acordo com as normas gerais de circulação e conduta, estabelecidas no Código de Trânsito Brasileiro, o trânsito de veículos, nas vias terrestres abertas à circulação, quando os mesmos, transitando por fluxos que se cruzem, se aproximarem de local não sinalizado, terá preferência de passagem aquele que:

- (A) for de órgão público, pois os mesmos sempre terão preferência nos cruzamentos sinalizados e não sinalizados.
- (B) vier pela esquerda do condutor, desde que o cruzamento em questão não seja do tipo rotatória.
- (C) for de órgão privado, desde que o mesmo esteja a serviço de um órgão público, os mesmos sempre terão preferência nos cruzamentos não sinalizados.
- (D) vier pela direita do condutor, desde que o cruzamento em questão não seja do tipo rotatória.

QUESTÃO 33

De acordo com as normas gerais de circulação e conduta, estabelecidas no Código de Trânsito Brasileiro, os veículos destinados a socorro de incêndio e salvamento, os de polícia, os de fiscalização e operação de trânsito e as ambulâncias, além de prioridade de trânsito, gozam de livre circulação, estacionamento e parada, quando em serviço de urgência e devidamente identificados por dispositivos regulamentares de alarme sonoro e iluminação vermelha intermitente, desde que observadas as seguintes disposições, **EXCETO**:

- (A) quando os dispositivos estiverem acionados, indicando a proximidade dos veículos, todos os condutores deverão deixar livre a passagem pela faixa da esquerda, indo para a direita da via e parando, se necessário.
- (B) o uso de dispositivos de alarme sonoro e de iluminação vermelha intermitente só poderá ocorrer quando da efetiva prestação de serviço de urgência.
- (C) a prioridade de passagem na via e no cruzamento, por estes veículos, deverá se dar com velocidade acelerada, para dar maior rapidez ao atendimento do serviço de urgência.
- (D) os pedestres, ao ouvirem o alarme sonoro, deverão aguardar no passeio, só atravessando a via quando o veículo já tiver passado pelo local.

QUESTÃO 34

De acordo com o Art. 29, do Código de Trânsito Brasileiro, o trânsito de veículos nas vias terrestres abertas à circulação obedecerá às seguintes normas, com **EXCEÇÃO** de:

- (A) o condutor deverá guardar distância de segurança lateral e frontal entre o seu e os demais veículos, bem como em relação ao bordo da pista, considerando-se, no momento, a velocidade e as condições do local, da circulação, do veículo e as condições climáticas.
- (B) o trânsito de veículos sobre passeios, calçadas e nos acostamentos e praças públicas, só poderá ocorrer para que se adentre ou se saia dos imóveis ou áreas especiais de estacionamento, exceto aos veículos prestadores de serviços públicos que podem circular livremente nesses locais.
- (C) os veículos prestadores de serviços de utilidade pública, quando em atendimento na via, gozam de livre parada e estacionamento no local da prestação de serviço, desde que devidamente sinalizados, devendo estar identificados na forma estabelecida pelo CONTRAN.
- (D) a ultrapassagem de outro veículo em movimento deverá ser feita pela esquerda, obedecida a sinalização regulamentar e as demais normas estabelecidas neste Código, exceto quando o veículo a ser ultrapassado estiver sinalizando o propósito de entrar à esquerda.

QUESTÃO 35

Analise as afirmativas a seguir em relação à ética profissional e deveres do motorista de profissão:

- I. estar atento às condições de segurança do veículo.
- II. conduzir o veículo com perícia, prudência, zelo e com observância aos princípios de direção defensiva.
- III. zelar pela carga transportada e pelo veículo.
- IV. atender ou usar o celular dirigindo, desde que, a chamada seja da ou para a repartição de serviço.
- V. respeitar a legislação de trânsito, como por exemplo, praticar sempre velocidade compatível e respeitar o limite de velocidade estabelecido para a via.

Assinale a alternativa **CORRETA**.

- (A) Todas as afirmativas estão corretas.
- (B) Apenas as afirmativas I, II e V estão corretas.
- (C) Apenas as afirmativas I, II, III e IV estão corretas.
- (D) Apenas afirmativas I, II, III e V estão corretas.

QUESTÃO 36

Os sinais de trânsito são classificados em verticais, horizontais, dispositivos de sinalização auxiliar, sinais luminosos e sonoros, e gestos do agente de trânsito e do condutor.

Com relação à ordem de prevalência desses sinais, é **CORRETO** afirmar que:

- (A) os sinais luminosos, ou seja, indicação do semáforo, têm prevalência máxima sobre qualquer outro tipo de sinais de trânsito.
- (B) as indicações verticais e horizontais prevalecem a qualquer outro tipo de sinal de trânsito.
- (C) as ordens do agente de trânsito têm prevalência sobre as normas de circulação e outros sinais.
- (D) as normas de trânsito prevalecem a qualquer outro tipo de sinal de trânsito.

QUESTÃO 37

Analise as afirmativas a seguir em relação à inspeção, desgastes e cuidados com os pneus de automóveis:

- I. uma das causas do desgaste irregular dos pneus pode ser problema nos amortecedores do automóvel.
- II. apesar de conferir maior estabilidade ao automóvel, os pneus com calibragem abaixo da recomendada sofrem maior desgaste.
- III. o desgaste central de um pneu, ou seja, bem no centro da banda de rodagem, pode ser ocasionado pelo descompasso entre a largura da roda e do pneu ou pela pressão nos pneus abaixo da recomendada.
- IV. a estabilidade do veículo também está condicionada aos pneus, sendo assim o condutor deve conferir regularmente a calibragem dos pneus, os desgastes na banda de rodagem e a existência de possíveis deformações na carcaça.

Assinale a alternativa **CORRETA**.

- (A) Apenas a afirmativa I está correta.
- (B) Apenas as afirmativas I, III e IV estão corretas.
- (C) Apenas as afirmativas I e IV estão corretas.
- (D) Todas as afirmativas estão corretas.

QUESTÃO 38

Analise as afirmativas a seguir em relação à mecânica e à elétrica de automóveis:

- I. nos automóveis do tipo bicomustível, o tanque de combustível é dividido em duas partes para armazenamento de combustível, ou seja, uma para armazenamento de etanol e outra para armazenamento de gasolina.
- II. o funcionamento de um automóvel com o nível de óleo abaixo do que é recomendado pelo fabricante ou com óleo vencido pode causar um grave dano ao motor.
- III. no sistema elétrico de um automóvel, o alternador transforma energia mecânica em elétrica e tem como função, entre outras, carregar a bateria automotiva.
- IV. a função da correia dentada em um motor de um automóvel é sincronizar o virabrequim, que faz a transferência de força do motor às rodas, e o comando de válvulas, que realiza o fluxo de gases no interior do cilindro.
- V. a bateria de um automóvel tem a função exclusiva de fornecer energia para o sistema de iluminação, como, por exemplo, para faróis, luzes de freio e luzes indicadoras de direção.

Assinale a alternativa **CORRETA**.

- (A) Apenas as afirmativas I, II e IV estão corretas.
- (B) Apenas as afirmativas III e V estão corretas.
- (C) Apenas as afirmativas II, III e IV estão corretas.
- (D) Apenas as afirmativas I e V estão corretas.

QUESTÃO 39

De acordo com o Código de Trânsito Brasileiro, é considerado como infração gravíssima:

- (A) ultrapassar outro veículo pelo acostamento e em interseções e passagens de níveis.
- (B) deixar de guardar distância de segurança lateral e frontal entre o seu veículo e os demais, bem como em relação ao bordo da pista, considerando-se, no momento, a velocidade, as condições climáticas do local da circulação e do veículo.
- (C) seguir veículo em serviço de urgência, estando este com prioridade de passagem devidamente identificada por dispositivos regulamentares de alarme sonoro e iluminação vermelha intermitentes.
- (D) transitar pela contramão de direção em vias com duplo sentido de circulação, exceto para ultrapassar outro veículo e apenas pelo tempo necessário, respeitada a preferência do veículo que transitar em sentido contrário.

QUESTÃO 40

Analise as afirmativas a seguir em relação às fases de funcionamento de um motor de quatro tempos:

- I. na compressão, as válvulas permanecem fechadas. A mistura comprimida é inflamada por uma centelha (faísca) da vela de ignição e expande-se impelindo o êmbolo. No fim deste curso a válvula de escapamento abre-se.
- II. na admissão, a válvula de admissão abre e a de escapamento (escape) mantém-se fechada. O êmbolo (pistão) desce, aspirando a mistura de combustível e ar que penetra no cilindro. Ao final a válvula de admissão fecha-se.
- III. na explosão, as válvulas de admissão e escape mantêm-se fechadas. Ao subir, o pistão comprime a mistura na câmara de combustão (explosão).
- IV. no escapamento, a válvula de admissão mantém-se fechada e a válvula de escape permanece aberta. O êmbolo sobe e expulsa os gases resultantes da combustão.

Assinale a alternativa **CORRETA**.

- (A) Apenas as afirmativas II e IV estão corretas.
- (B) Apenas as afirmativas I, III e IV estão corretas.
- (C) Apenas as afirmativas I e IV estão corretas.
- (D) Todas as afirmativas estão corretas.